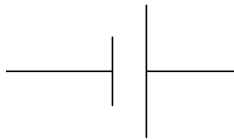


Name: \_\_\_\_\_

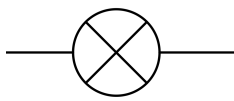
# Schaltpläne

Mit Hilfe von Schaltplänen können Stromkreise gezeichnet werden. Auf der ganzen Welt werden die gleichen Schaltzeichen verwendet.

*Beschrifte die Schaltzeichen.*



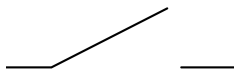
\_\_\_\_\_



\_\_\_\_\_



\_\_\_\_\_

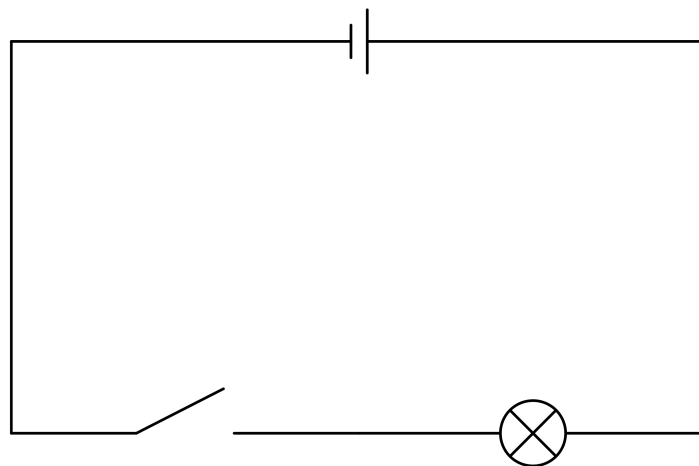


\_\_\_\_\_



\_\_\_\_\_

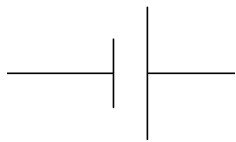
*Beschrifte die Teile des Schaltplanes.*



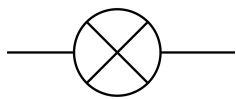
# Schaltpläne

Mit Hilfe von Schaltplänen können Stromkreise gezeichnet werden. Auf der ganzen Welt werden die gleichen Schaltzeichen verwendet.


*Beschrifte die Schaltzeichen.*



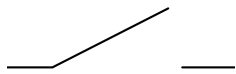
Batterie




Glühlampe



Kabel



Schalter geöffnet



Schalter geschlossen

*Beschrifte die Teile des Schaltplanes.*

